


CORRECTIONS DU FEUILLÉ 19 MARS 2020



CE1


Orthographe

CLEO 1 p 131 + 2 p 132 + 3 p 138

1 **Écris les syllabes dans les étiquettes.** date : .....


 une ardoise       $3+4=7$   
 $6-5=1$       des opérations  
 $2 \times 4 = 8$

 un avion       un lion


**On** des points       un poisson

points   lion   tions   son   doi   o   se   pé   ar   pois   rion   ra   a

2 date : .....



 cadeau   ca   deau      mercredi   mer   cre   di



Noël   No   ël      vendredi   ven   dre   di



 girafe   gi   ra   fe      samedi   sa   me   di



mardi   mar   di      dimanche   di   man   che



3 **Cache la fin de l'adjectif au féminin et écris-le au masculin à droite.** date : .....



 une planche épaisse →  un livre épais

 une fille assise →  un garçon assis

 une réunion secrète →  un agent secret

 une valise très lourde →  un sac très lourd

 une fleur violette →  un pull violet

 une fille sportive →  un garçon sportif



# Splat adore jardiner !

Date : 19/03/20

Prénom :

2\*\*

1 Relie chaque phrase à son personnage :



Ce dernier vise mal le pot de terre.

Il se protège avec son parapluie.

Il place le pot au soleil.

Il est recouvert de terre.

2 Lis les phrases suivantes et coche la bonne réponse.

	vrai	faux
Splat et Harry cherchent un livre sur les dinosaures.		X
La bibliothécaire aide les amis.	X	
Splat remplit un pot de sable.		X
Harry Souris est arrosé.	X	
Le pot est placé au soleil et arrosé.	X	

3 Pourquoi Harry Souris ouvre -t- il son parapluie ?



Parce que Splat vise mal quand il arrose.

4 Pourquoi Splat arrose-t-il le pot de terre ?

Il arrose le pot pour que la plante pousse.



# Splat adore jardiner !

Date : 19/03/20

Prénom : Axel O.

2\*

1 Relie chaque phrase à son personnage :



Ce dernier vise mal le pot de terre.

Il place le pot au soleil.



Il se protège avec son parapluie.

2 Lis les phrases suivantes et coche la bonne réponse.

	vrai	faux
Splat et Harry cherchent un livre sur les dinosaures.		X
La bibliothécaire aide les amis.	X	
Splat remplit un pot de sable.		X
Harry Souris est arrosé.	X	
Le pot est placé au soleil et arrosé.	X	

3 Comment est Splat ? Colorie la bonne réponse.



maladroit

précis

visse bien

4 Pourquoi Splat décide-t-il d'arroser le pot de terre ?

Il arrose le pot pour que la plante pousse.

85

# Tracer un carré ou un rectangle à l'aide d'un gabarit

5+3      6+4      8+2      5+4      8+7


Compétences	Construire un carré et un rectangle sur papier uni en utilisant un gabarit.
Calcul mental	Tables d'addition. Dire : « 7 + 8 », l'élève écrit 13.
Prérequis oral	Combien d'angles droits possède un carré ? un rectangle ?
Différenciation	Consolidation : Photocopie 76 C

Découvrons

1 Le gabarit A du matériel est un rectangle déchiré. Utilise-le pour construire :

- un rectangle.

Trace-le en retournant (A)



- un carré.

Utilise le petit côté pour tracer les 4 côtés de même longueur.




RAPPEL : le rectangle et le carré ont 4 angles droits.

Je m'entraîne

2 Le gabarit B du matériel est un carré déchiré. Utilise-le pour construire :


- un carré.

Trace-le en retournant (B)



- un rectangle.

Utilise ces 2 côtés.



50

Problèmes (4) :  
Comparaisons additives

Compétence	Résoudre un problème de comparaison additive en s'aidant d'un schéma.
Calcul mental	Unités de numération (centaines et dizaines). Écrire 4 centaines 6 dizaines ; l'élève écrit 460.
Différenciation	Consolidation : Photofiche 46 C.

3c 5d

2c 8d

5c 2d

7c 4d


9c 7d

1 Lilou a ramassé 75 coquillages et Carla 80 coquillages. Elles représentent leurs nombres de coquillages par un schéma.

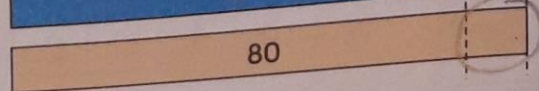


Complète.

Coquillages de *Lilou* : .....



Coquillages de *Carla* : .....



Entoure sur le schéma la partie qui représente les coquillages que Carla a ramassés en plus. Combien en a-t-elle ramassés de plus ?

Écris l'opération et calcule-la :  $80 - 75 = 5$

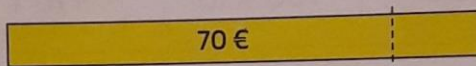
Complète. Carla a ramassé *5* coquillages de plus que Lilou.

2 Julia et Nils comparent leurs économies.


J'ai 70 €.

J'ai 20 € de moins que toi.

Économies de Nils :



Économies de Julia :



Utilise le schéma pour trouver le montant des économies de Julia.

Écris l'opération et calcule-la :  $70 - 20 = 50$


Complète. Julia possède *50* €

3 Théo et Léa comparent leurs nombres d'images.


J'ai 150 images

J'en ai 30 de plus que toi.

Images de Théo :



Images de Léa :



Utilise le schéma pour trouver combien d'images possède Léa.

Écris l'opération et calcule-la :  $150 + 30 = 180$

Complète. Léa possède *180* images.