

## CORRECTIONS DU VENDREDI 20 MARS 2020

CE1

## Compréhension

CLEO 22 p 13 + 4 p31


22 date : .....

Un peu impressionné, un bâton dans chaque main, Pierrick attendait que le moniteur lui donne le signal du départ.


- Qu'est-ce que fait Pierrick? *Pierrick fait du ski.*

4 date : .....

Fanny est allée au parc avec sa maman. Elle aime y aller pour faire de la balançoire. Il est immense, avec beaucoup de jeux pour les enfants. Elle ne s'ennuie jamais quand elle y va.



Victor a attrapé un gros rhume. Il en a déjà eu un le mois dernier, il n'a vraiment pas de chance ! Vivement qu'il finisse, il en a assez de se moucher.



## Lexique

CLEO 3 p 51 + 1 p 53


3 date : .....

- Je suis descendu à la cave, mais j'ai oublié de prendre quelque chose : il faudra que j'y redescende.
- Comme j'avais froid, j'avais boutonné mon manteau jusqu'en haut. Mais maintenant, j'ai trop chaud : je l'ai déboutonné.
- Pendant la sortie scolaire, la maîtresse a compté et recompté les élèves toute la journée.
- La neige est tombée la nuit dernière, alors nous avons déneigé le trottoir.

1 date : .....

« Hmmm ! Ce petit cochon a l'air exquis ! » dit le loup en se léchant les babines.

délicieux succulent dégoûtant immangeable



86

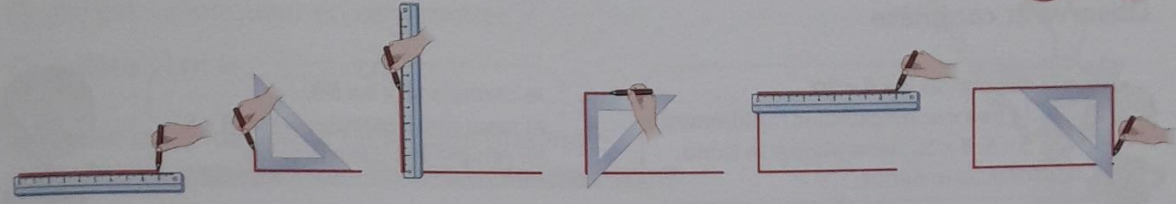
# Tracer un carré ou un rectangle sur papier uni

Compétences	Tracer un rectangle et un carré sur papier uni.
Calcul mental	Complément à un nombre < 20. Dire : « Combien faut-il ajouter à 8 pour obtenir 12 ? » ; l'élève écrit 4.
Différenciation	Consolidation : Photofiche 77 C.


$11 + \dots = 15$   
 $7 + \dots = 13$   
 $14 + \dots = 19$   
 $9 + \dots = 12$   
 $15 + \dots = 18$

Découvrons

1 Observe comment Théo trace un rectangle de 5 cm et de 9 cm de côté :



À ton tour **trace** ce rectangle.

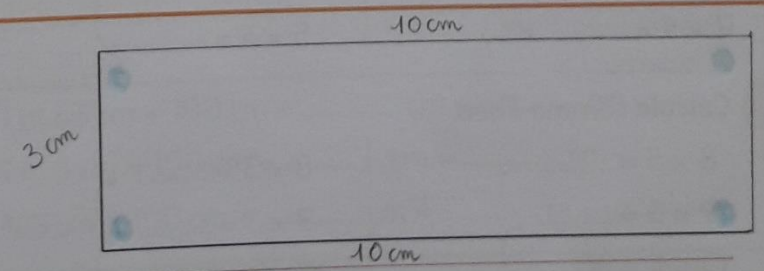


Un rectangle possède 4 angles droits et des côtés opposés de même longueur.



Je m'entraîne

2 Trace un rectangle. Deux côtés sont déjà tracés.



3 Trace 2 carrés de 3 cm de côté.



Un carré possède 4 angles droits et 4 côtés de même longueur.



**46c**

**Problèmes (4) : Comparaisons additives**

Fichier CE1  
Leçon 50

Compétence : Résoudre un problème de comparaison du champ additif.

Prénom Axel Ouaret

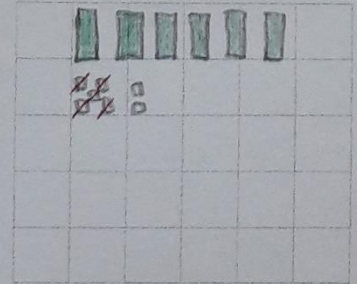
Date 20/03/20

**1** Léa a ramassé 67 violettes et Manon en a ramassé 5 de moins.

Combien de violettes a ramassées Manon ?

67 - 5 = 62

Manon a ramassé 62 violettes.

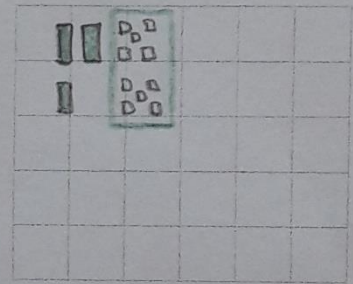


**2** Lucas a ramassé 25 champignons. Théo a ramassé 15 champignons de plus que Lucas.

Combien de champignons a ramassés Théo ?

25 + 15 = 40

Théo a ramassé 40 champignons.




**3** La fleuriste a vendu 50 roses jeudi. C'est 10 roses de moins que vendredi.

Combien de roses a-t-elle vendues vendredi ?

50 + 10 = 60

Vendredi, elle a vendu 60 roses.



**4** Boris possède 20 €. C'est 5 euros de plus que Loïc.

Combien d'euros possède Loïc ?

20 - 5 = 15

Loïc possède 15 €.

