

CORRECTIONS DU FEUFI 26 MARS 2020


CE1


Orthographe

CLEO 2 p 131 + 3 p 132 + 4 p 138


2


date :

 un arrosoir

 une armoire

$3+5=8$ une addition

 un rond point

 « Coin coin ! »

$7-2=5$ une soustraction

tion ar re trac point ad soir Coin ar ro tion di
sous moi coin rond

3

date :

pardon par don


chocolat cho co lat

printemps prin temps

animal a ni mal

montre mon tre

escalier es ca lier


 garçon gar çon

octobre oc to bre

4


date :

 une bague brillante →  un bijou brillant

 une fille coquette →  un garçon coquet

 une femme intelligente →  un homme intelligent

 une dame inquiète →  un monsieur inquiet

 une femme muette →  un homme muet

 une chienne craintive →  un chien craintif



Splat adore jardiner !

Date : 26/03/20

Prénom :



1 Lis les phrases suivantes et coche la bonne réponse.

	vrai	faux
Splat pense que la plante est une tulipe .		✗
Il chante des chansons à sa plante.	✗	
Splat n'en peut plus attendre.	✗	
Il compte les jours pendant trois semaines.		✗
Splat n'arrose pas le pot .		✗


2 Ecris deux phrases en utilisant les mots suivants.

désespéré. chante est Il Splat une chanson.

Splat chante une chanson. Il est désespéré.

3 Pourquoi Splat décide-t-il d'arroser le pot de terre ?

On ne sait jamais. Ça va peut-être pousser.

4  Lis la phrase et dessine :

Splat observe sa plante. Il lit des livres et chante .Harry Souris est à droite du pot.





Splat adore jardiner !

Date : 26/03/20

Prénom : Axel O.

3*

1 Lis les phrases suivantes et coche la bonne réponse.

	vrai	faux
Splat pense que la plante est une tulipe .		X
Il chante des chansons à sa plante.	X	
Splat n'en peut plus attendre.	X	
Il compte les jours pendant trois semaines.		X
Splat n'arrose pas le pot .		X

2 Quelle est l'humeur de Splat ? Colorie la bonne réponse.



heureux

fatigué

désespéré

3 Pourquoi Splat décide-t-il d'arroser le pot de terre ?

On ne sait jamais. Ça va peut-être pousser.

4 Lis la phrase et dessine :

Splat observe sa plante. Il lit des livres et chante. Harry Souris est à droite du pot.

90

Calculer la somme de nombres de 2 ou 3 chiffres

$\times 4 = 8$
 $\times 4 = 32$
 $\times 4 = 12$
 $\times 4 = 36$
 $\times 4 = 16$

Compétence	Utiliser la décomposition canonique des nombres et la commutativité de l'addition pour calculer la somme de nombres de 3 chiffres.
Calcul mental	Table de multiplication par 4. Dire : « En 24 combien de fois 4 ? ». L'élève écrit 6.
Prérequis oral	5 + 4 est-elle égale à 4 + 5 ?
Réinvestissement	Relations entre les unités de temps.
Différenciation	Remédiation : Photofiche B1 R.

Découvrons

1 On a demandé à Théo et à Léa d'effectuer des additions sans les poser. Théo calcule $432 + 246$.

Je décompose ces nombres en centaines, dizaines et unités.

$$432 + 246 = 400 + 30 + 2 + 200 + 40 + 6$$

$$432 + 246 = 600 + 70 + 8 = 678$$

Léa calcule $170 + 145 + 30$. → Elle utilise les compléments à 10.

Je peux regrouper deux nombres pour faire apparaître une centaine.

$$170 + 145 + 30 = 170 + 30 + 145$$

$$170 + 145 + 30 = 200 + 145 = 345$$

Je m'entraîne

2 Calcule comme Théo.

$$245 + 124 = 200 + 40 + 5 + 100 + 20 + 4$$

$$245 + 124 = 300 + 60 + 9 = 369$$

Décompose ces nombres.

3 Calcule comme Léa.

$$180 + 234 + 20 = 180 + 20 + 234$$

$$180 + 234 + 20 = 200 + 234 = 434$$

Tu as déjà calculé $80 + 20$!

4 Théo achète ces trois articles. Combien va-t-il payer ?

55 € (casque) 122 € (skateboard) 21 € (gants)

$$55 + 122 + 21 = 198$$

Il va payer 198 €.

5 Complète.

1 jour = 24 heures 1 semaine = 7 jours

1 heure = 60 minutes

48 heures = 2 jours

Le coin du chercheur

Combien de cubes composent cet assemblage ?

1 est caché dessous.

6

56 Poser une addition avec retenue (1)

317+5 516+8 819+4 114+7 425+7

.....
.....
.....
.....
.....

Compétences	Poser et effectuer une addition avec retenue de deux nombres de deux chiffres.
Calcul mental	Ajouter un petit nombre à un nombre de trois chiffres (franchissement de la dizaine). Écrire $258 + 5 = \dots$; l'élève écrit 263.
Prérequis oral	Dans un tableau de numération, sur une ligne, peut-on écrire 2 chiffres dans une colonne ?
Réinvestissement	Lire, écrire un nombre.
Différenciation	Remédiation : Photofiche 50 R.

Découvrons

1 Théo calcule $74 + 28$. Complète son calcul.



Je commence par les unités : $4 + 8 = 12$.
12 c'est 1 dizaine et 2 unités.
La retenue est ① dizaine.

c	d	u
①	1	
	7	4
	2	8
=	..1..	..0.. 12



Il y a aussi une retenue dans la colonne des centaines.

MÉMO 10

$74 + 28 = \dots 102$

Je m'entraîne

2 Calcule.

c	d	u
	①	
	1	8
+	2	8
=	..4..	..6..

c	d	u
①	①	
	6	7
+	5	8
=	..1..	..2.. 5

c	d	u
①	①	
	3	7
+	9	3
=	..1..	..3.. 0

3 Pose et calcule.

$27 + 34$

c	d	u
	①	
	2	7
+	3	4
	6	1

$76 + 54$

c	d	u
①	①	
	7	6
+	5	4
	1	3
		0

$83 + 95$

c	d	u
	①	
	8	3
+	9	5
	1	7
		8

Attention ! il n'y a pas toujours une retenue.



4 Écris en chiffres.

cent dix : ..110..
cent trois : ..103..
cent quatre-vingts : ..180..



Le coin du chercheur

Combien de triangles comptes-tu ?

8

