

CORRECTIONS DU VENDREDI 27 MARS 2020

CE1


Compréhension

CLEO 23 p13 + 4 p28 + 5 p31

23

date :

Des bruits inquiétants provenaient de la pièce à côté. Léo regrettait vraiment de ne pas avoir écouté sa maman, mais il était trop tard... « Tu verras, il va te l'arracher avec une énorme pince », lui avait dit sa grande sœur pour lui faire peur... Léo n'était vraiment pas rassuré...



• Où est Léo? ▶ Chez le dentiste.

4

date :

• À quelles heures aura lieu le spectacle de cirque des CE1? ▶ Il aura lieu à 14h30 et 15h30.

• Qu'est-ce qu'on pourra voir dans la cour à 16h30? ▶ A 16h30, on pourra voir la chorale des CM1.


• Où aura lieu le tirage de la tombola? ▶ Dans la salle de sport.

• Qu'est-ce qui commencera à la même heure que la danse des CP? ▶ Le théâtre par les CE2.


5

date :

Arthur apprend à faire ses lacets. Quand ils se dénouent, il s'assied et les renoue. C'est encore difficile pour un petit garçon comme lui!



Jean adore passer l'aspirateur. Quand il le met en route, il démarre avec un bruit de tempête! Ses parents sont contents d'avoir un garçon qui les aide.




Lexique

CLEO 4 p51 + 2 et 3 p53

4

date :


- J'ai cru que ce film n'allait jamais se terminer!
Il était interminable.
- J'adore cette voiture: quand il fait beau, on peut enlever la capote:
elle est décapotable.
- Ce bruit est vraiment impossible à supporter!
Il est insupportable.
- Cette table est pratique pour les piqueniques: on peut la monter
et la ranger en quelques minutes: elle est démontable.



2

date :

C'était le plus petit des trois frères, et pourtant c'était lui le plus **hardi**: il n'avait peur de rien ni de personne.




audacieux peureux courageux froussard

3

date :

Mon arrière-grand-mère monta dans son **antique** voiture: pétaradant, fumant, hoquetant, le moteur finit par démarrer.

très vieille toute neuve ancienne moderne



91

Situations de division : groupements

364

192

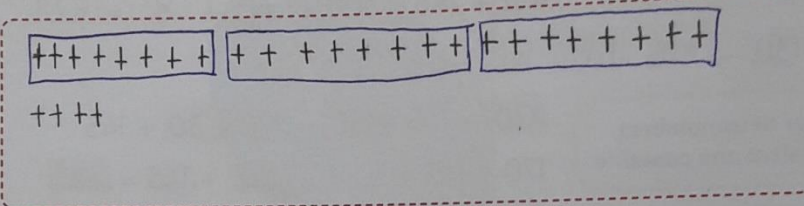
638

597

482

Découvrons

- 1 En classe, Léa doit ranger 28 feutres dans des boîtes. Elle doit mettre 8 feutres dans chaque boîte.
Combien a-t-elle rempli de boîtes ?
Reste-t-il des feutres à ranger ?



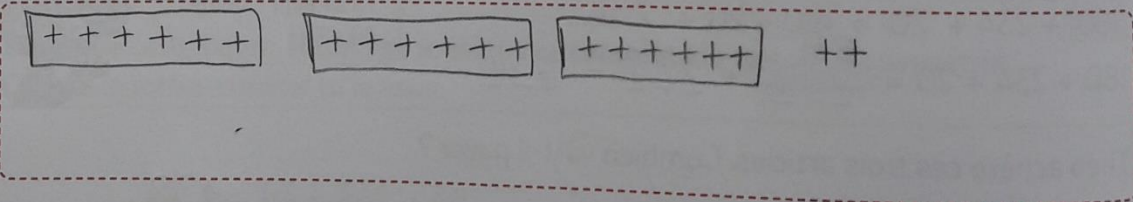
Schématise les feutres par des croix. Puis fais des paquets.



Complète. Léa a rempli 3 boîtes. Il reste 4 feutres à ranger.

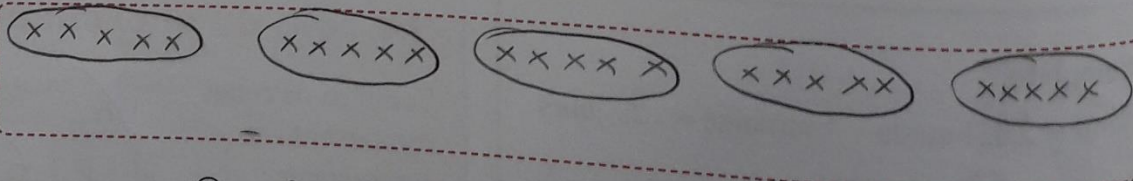
Je m'entraîne

- 2 Théo range 20 cartes dans un classeur. Il met 6 cartes dans chaque page.
Combien de pages complètes remplit-il ?
Combien reste-t-il de cartes ?



Complète. Il remplit 3 pages. Il reste 2 cartes.

- 3 Il y a 25 élèves dans la classe. Boris doit faire des équipes de 5 enfants.
Combien d'équipes Boris fera-t-il ?



Complète. Boris fera 5 équipes.

57

Mesurer une longueur avec la règle graduée de la trousse

$198+6$

$395+5$

$496+3$

$392+9$

$498+4$

| | |
|------------------|--|
| Compétence | Utiliser la règle graduée de la trousse pour mesurer des longueurs en centimètres. |
| Calcul mental | Ajouter un petit nombre à un nombre de trois chiffres (franchissement de la centaine). Écrire $297 + 5 =$ l'élève écrit 302. |
| Prérequis oral | Sortez votre règle graduée de la trousse. À quoi sert-elle ? |
| Réinvestissement | Écriture littérale des nombres. |
| Différenciation | Remédiation : Photofiche 51 R |

Découvrons

1 **Compare** la règle graduée de la page matériel B à celle de ta trousse. Sur la règle de ta trousse, la graduation zéro est-elle au bord ? oui non

NÉMO 13

2 **Entoure** l'enfant qui mesure correctement la longueur du segment rouge.

La longueur du segment rouge est comprise entre 3 cm et 4 cm.

J'ai trouvé 5 cm.

La longueur du segment rouge est de 4 cm.

Complète. Le segment rouge mesure ...4... cm.

Je m'entraîne

3 **Entoure** l'enfant qui mesure correctement la longueur du segment bleu.

J'ai trouvé 3 cm.

J'ai trouvé 2 cm.

J'ai trouvé moins de 2 cm.

Complète. Le segment bleu mesure ...2... cm.

4 **Mesure, puis complète.**

...5... cm

Place correctement le zéro de ta règle !

...11... cm

5 **Écris** en lettres.

125 : ...cent vingt cinq... 230 : ...deux cent trente...