

CORRECTIONS DU LUNDI 30 MARS 2020

CE1

Etude de la langue

CLEO 11 p95 + 4 p101 + 3 p102 + 1 et 2 p105


11

L'histoire de madame Froide

date :

froid froide froids froides

Madame Froide habite au pôle Nord. Elle a toujours les mains froides, les pieds froids, et le bout du nez tout froid ! La maison est très froide, son lit est froid, et même ses radiateurs sont froids ! Elle mange des salades froides, de la viande froide et des glaces bien sûr très froides. Le matin, elle fait sa toilette à l'eau froide et boit du café froid. Prrr, elle me donne des frissons !




4

date :

- La souris explore la maison.
- Elle va au grenier.
- Elle est discrète.
- Elle ne fait aucun bruit, car elle a peur du chat !

Les souris explorent la maison.
Elles vont au grenier.
Elles sont discrètes.
Elles ne font aucun bruit,
car elles ont peur du chat !




3

date :

Quand tu étais toute petite, tu marchais à quatre pattes. Je t'apprenais à marcher, et tu faisais quelques pas.

Je jouais avec toi, et nous partagions la même chambre. Tu dormais dans un berceau et moi j'avais déjà un grand lit. Nous ne nous disputions jamais car nous étions très complices.



1

date :

Vous faites trop de bruit.
Ils disent que j'ai grandi.
Il fait très froid.
Vous dites : « Merci ! »
Elles font leur travail.
Je te dis un secret.

2

date :

Vous faites du feu.
Vous leur dites : « Bonsoir ! »
« Aie ! Vous me faites mal ! »
Les vaches font : « Meuh ! »
« Tu me fais rire ! »
Vous faites un dessin.

92

Situations de division : partages

365 - 50 463 - 30 638 - 30 578 - 60 239 - 20

.....

.....

.....

.....

.....

Compétence	Résoudre des problèmes de division partition.
Calcul mental	Retrancher des dizaines à des nombres de trois chiffres ; écrire 158 - 30 = ... ; l'élève écrit 128.
Différenciation	Remédiation : Photofiche 83 R.

Découvrons

1 Léa, Théo, Boris et Mélissa se partagent 17 images. Combien chacun aura-t-il d'images ?

Quand tu places une image dans un cadre en pointillés, barre-la.



Chacun a reçu ...4... images. Il reste ...1... image.

Je m'entraîne

2 Léa, Boris et Mélissa jouent aux cartes. Le jeu comporte 20 cartes, chaque enfant doit avoir le même nombre de cartes. Combien de cartes chacun aura-t-il ?

Chacun aura ...6... cartes. Il restera ...2... cartes.

3 Fatoumata range 24 gâteaux dans 3 boîtes. Combien de gâteaux contiendra chaque boîte ?

Chaque boîte contiendra ...8... gâteaux.

Le coin du chercheur

Déplace une bûchette pour obtenir un résultat juste.

6 + 2 = 8

58

Reconnaître un triangle rectangle

465 / 556

.....

424 / 384

.....

980 / 890

.....

602 / 599

.....

627 / 717

.....

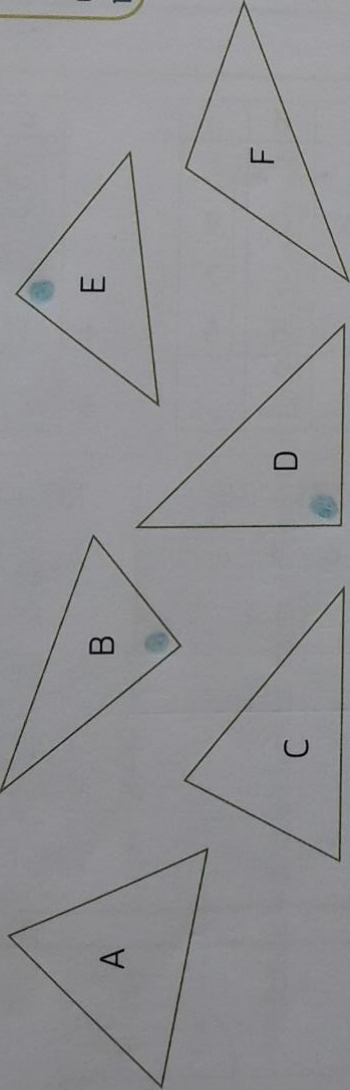
Compétences	Reconnaître un triangle rectangle en utilisant une équerre. Identifier le sommet de son angle droit.
Calcul mental	Comparer les nombres < 1 000 (centaines différentes). Écrire 817 et 565 ; l'élève écrit le plus grand : 817.
Prérequis oral	Qu'utilise-t-on pour vérifier qu'un angle est droit ?
Différenciation	Remédiation : Photofiche 52 A.

15



Un triangle rectangle possède un angle droit.

1 Utilise ton équerre pour trouver les triangles rectangles. Dessine un point **bleu** au sommet de leur angle droit.



Je m'entraîne

2 Utilise ton équerre pour trouver les triangles rectangles. Dessine un point **bleu** au sommet de leur angle droit.

Équerre détachée page matériel D

Matériel D

