

CORRECTIONS DU VENDREDI 20 MARS 2020

CE2

Compréhension

CLEO 22 p 13 + 2 p 26 + 3 p 29

22

date:

Le soleil allait se lever, mais pour elle, c'était l'heure de dormir.
D'un coup d'ailes, elle entra dans la grotte et s'accrocha au plafond, la tête en bas.

- De qui parle ce texte? ▶ Il parle d'une chauve-souris.

2

date:

- Mme Laval habite avenue du Parc. C'est la directrice de l'école. Elle est arrivée à son travail un peu après 7h40. À quelle heure est-elle montée dans le bus?

à 7h25

- Mme Sidoux habite rue de la Mairie. Elle a rendez-vous chez le dentiste rue de la Forêt, à 8h15. À quelle heure doit-elle prendre le bus?

à 7h45

- Gaëlle doit être à l'école pour 8h00. Elle habite place de la Gare. À quelle heure doit-elle prendre le bus?

à 7h40

3

date:

À la naissance, les bébés loups sont aveugles, sourds et fragiles, mais les loups sont de bons parents qui s'occupent très bien de leurs louveteaux.

Ils les nourrissent et les protègent pendant de longs mois.

La louve reste toujours avec ses petits. C'est elle qui les surveille et les nettoie

à coups de langue pendant que leur père part chercher de la nourriture. La mère allaite ses petits pendant deux mois,

puis ceux-ci commencent à manger de la viande. Très vite,

ils sortent du repaire pour aller jouer sous l'œil attentif

de leurs parents.



Lexique


CLEO 6 p 42 + 7 p 46

6 date:

dortoir mouchoir lavoir arrosoir rasoir trottoir

Objets	Un mouchoir, c'est un objet pour...	Endroits	Un dortoir, c'est un endroit pour...
mouchoir		dortoir	
arrosoir		lavoir	
rasoir		trottoir	

7 date:



mousse n.f.

- a. Plante qui pousse dans les bois.
- b. Petites bulles qui se forment sur un liquide.
- c. Dessert aux fruits ou au chocolat.

- En versant la bière, le serveur a fait déborder la mousse du verre. (b)
- En forêt, marcher sur de la mousse est très agréable. (a)
- De la mousse a poussé sur les arbres. (a)
- Est-ce que tu as la recette de la mousse aux framboises ? (c)
- J'adore la mousse au chocolat. (c)
- Dans le bain, Déborah joue avec la mousse. (b)

Photofiche 538
80

Distinguer un cube ou un pavé droit

180 - 50 160 - 20 150 - 10
230 - 60 170 - 150

Découvrons ensemble

Observe une boîte de mouchoirs et une boîte à chaussures comme celles ci-dessous.



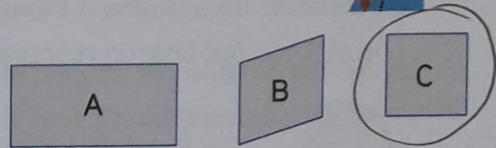
Si toutes les faces d'un pavé droit sont des carrés, il s'agit d'un cube.



Ces deux boîtes sont des pavés droits. L'une est un cube. Laquelle ?

- la boîte de mouchoirs la boîte à chaussures

Entoure la trace que peut donner la boîte de mouchoirs.




Je m'entraîne

1 Deux solides ont laissé les empreintes ci-dessous.

Attention, un pavé droit peut avoir deux faces carrées.

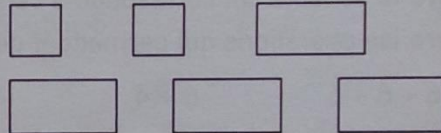


a Solide 1



Ce solide est-il un cube ? Oui Non

b Solide 2

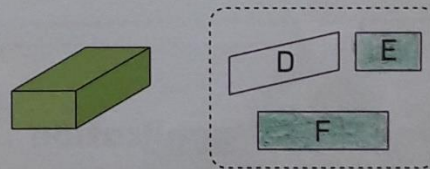
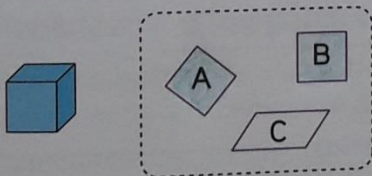


Ce solide est-il un cube ? Oui Non

2 Colorie :

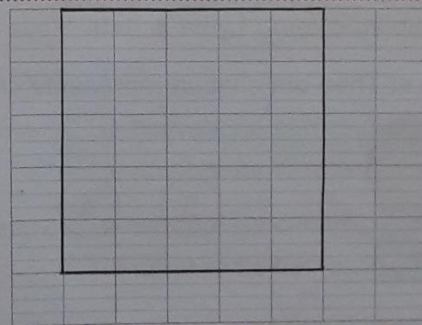
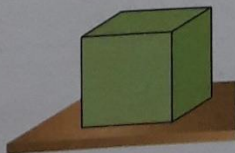
a en bleu les deux empreintes du cube.

b en vert les deux empreintes du pavé droit.



3 Problème : Théo a posé ce cube sur la table. Chaque arête mesure 4 cm.

Dessine la trace de la face posée sur la table.



J'ai déjà appris

4 Calcule la moitié des nombres suivants :

26 = 20 + 6

34 = 30 + 4

Moitié de 26 = 10 + 3

moitié de 34 = 15 + 2

Moitié de 26 = 13

moitié de 34 = 17

Le coin du chercheur

Mais quelle heure est-il ?



9h30

Compétence : Distinguer un cube ou un pavé droit d'après leurs propriétés.

Calcul mental : Calculer la différence entre deux dizaines proches. L'enseignant dit : « 150 - 130 » ; l'élève écrit 20.