

CORRECTIONS DU LUNDI 23 MARS 2020


CE2


Etude de la langue


CLEO 5 p85 + 1 p88 + 1 et 2 p90 + 3 p93


5

date :

Le petit chat va tomber .

 Le petit chat va tomber.

Le petit chat est tombé .

 Le petit chat est tombé.

Le maitre va m'expliquer l'exercice.

 Le maitre va m'expliquer l'exercice.

Le maitre m'a expliqué l'exercice.

 Le maitre m'a expliqué l'exercice.

Je construis le passé composé

Complète la phrase avec le verbe (dans l'étiquette) conjugué au passé composé.

Pour t'aider

Les formes du passé composé					
je, j'	ai	chanté	nous	avons	chanté
tu	as	réfléchi	vous	avez	réfléchi
il, elle, on	a	couru	ils, elles	ont	couru

1

date :


regarder • Ils ont regardé la télé avant d'aller se coucher.

courir • On est essoufflé, parce qu'on a couru dix minutes.

être • Vous avez été absents pendant cinq jours.

renverser • Des chatons ont renversé un vase.

boire • J'avais très soif, j'ai bu un grand verre d'eau.



1

date :

- La neige a fondu.
- Toute la famille cueille des fleurs.
- Le ballon a roulé.
- Mattéo fait du bateau.
- Le temps va changer.
- Je caresse les chats.

2

date :

- Harim et Zoé bavardent.
- J'arrache l'herbe.
- Nicolas met une chemise.
- Le bébé s'est endormi.
- Je remplis mon verre.
- J'ai besoin d'un marteau.

3

date :

- Elisabeth, qu'est-ce que vous faites ?
- L'année prochaine, je ferai de l'escalade.
- Vous irez chercher du bois et nous, nous ferons le feu.
- Autrefois, les savants disaient que la terre était plate !
- Je ne savais pas que vous faisiez du tennis.
- Qu'est-ce mes parents diront quand ils verront ça ?



Photofiche P19
81

Problèmes : Apprendre à résoudre Situations multiplicatives

1560 479 2857 3156

Problème de référence 1


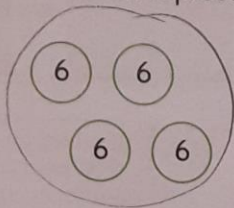
Un pack d'eau contient 6 bouteilles. Au supermarché, Émilie achète 4 packs d'eau.

Combien de bouteilles achète-t-elle ?



Associer un schéma à l'énoncé

Léa et Théo ont chacun représenté ce problème par un schéma.



Entoure le schéma qui correspond à l'énoncé.

Entoure les opérations qui permettent de répondre à la question.

$6 + 6 + 6 + 6$

$6 + 4$

4×6

Pour écrire la phrase réponse, utilise les mots de la question.



Répondre à la question

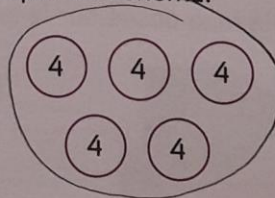

Écris, puis effectue les calculs. $4 \times 6 = 6 + 6 + 6 + 6 = 24$

Rédige une phrase réponse. Elle achète 24 bouteilles.

Problème d'application

1 Une boîte d'œufs contient 4 œufs. Lydia achète 5 boîtes d'œufs. Combien d'œufs Lydia achète-t-elle ?

Léa et Théo ont chacun représenté ce problème par un schéma.



Entoure le schéma qui correspond à l'énoncé.

Entoure les opérations qui permettent de répondre à la question.

5×4

$4 + 4 + 4 + 4 + 4$

$5 + 4$

Écris, puis effectue les calculs. $5 \times 4 = 4 + 4 + 4 + 4 + 4 = 20$

Rédige une phrase réponse. Lydia achète 20 œufs.