

CORRECTIONS DU LUNDI 27 AVRIL 2020

CE1


Etude de la langue

CLEO 6 p101 + 5 p103 + 4 p105 + 3 p106

6

date :

- Ma cousine est une artiste!
- Elle va à l'école de musique, où elle fait du piano.
- Elle aime les morceaux doux, mais elle préfère les morceaux rapides!




Maes cousines sont des artistes!
 Elles vont à l'école de musique, où elles font du piano.
 Elles aiment les morceaux doux, mais elles préfèrent les morceaux rapides!

5

date :

Pendant la préhistoire, les hommes habitaient devant des grottes.
 Ils partaient en groupe à la chasse.
 Ils tuaient des bisons ou des ours.



L'hiver était très dur, les hommes avaient froid: ils se couvraient de peaux de bêtes. Le feu était très précieux, il ne devait surtout pas s'éteindre! Sinon, ils ne pouvaient plus se réchauffer!

4



date :

Vous faites un gâteau.
 Quille! Tu me fais mal!
 Léa dit la poésie.
 Vous faites vos devoirs.
 Nous disons la vérité.
 Le vent fait du bruit.

3

date :

Les voitures jouent avec Paul dans sa chambre.

Paul joue avec les voitures dans sa chambre.
 s v

101

Jeu du chapeau (3)

5×20
 2×30
 5×30
 5×50
 2×90

Compétence	Résoudre des situations additives ou soustractives : recherche de la transformation.
Calcul mental	Multiplier par un nombre entier de dizaines. Dire : « 7 × 20 » ; l'élève écrit 140.
Différenciation	Consolidation : Photofiche 91 C.

Combien de points a-t-on retirés ou ajoutés sous le chapeau ?

- 1 u = 1 point
- 1 d = 10 points
- 1 c = 100 points

1

212 points

-100

= 112 points

On a retiré ...1... jeton bleu, ...0... jeton vert et ...0... jeton jaune.
 On a donc retiré ...100... points.

2

103 points

$+110$

= 213 points

On a ajouté ...1... jeton bleu, ...1... jeton vert et ...0... jeton jaune.
 On a donc ajouté ...110... points.

3

113 points

-102

= 11 points

On a retiré ...1... jeton bleu, ...0... jeton vert et ...2... jetons jaunes.
 On a donc retiré ...102... points.

66

Retrancher un nombre de deux chiffres

5-2 7-2 8-3 9-3 8-2

.....

.....

.....

.....

.....

Compétence	Calcul en ligne : Retrancher un nombre de deux chiffres.
Calcul mental	Différences de nombres < 10 Dire : « 9 - 2 » : l'élève écrit 7
Prérequis oral	Calculez 35 - 20.
Réinvestissement	Identifier un triangle rectangle
Différenciation	Remédiation : Photofiche 59 R

Découvrons

1 Léa calcule $48 - 25$. **Observe** et **complète**.

MÉMO 11

MATÉRIEL A

Vérifie avec ton matériel de numération.



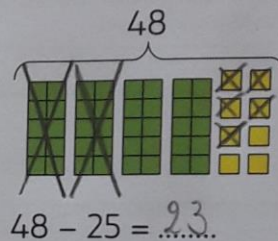
$25 = 20 + 5$
Je retranche d'abord 20, puis 5.

→ les dizaines

→ les unités

$$\begin{array}{r} 48 - 20 = 28 \\ 28 - 5 = 23 \end{array}$$

donc $48 - 25 = 23$



Je m'entraîne

2 Calcule.

$36 - 23$

$36 - 20 = 16$

$16 - 3 = 13$

donc $36 - 23 = 13$

$45 - 14$

$45 - 10 = 35$

$35 - 4 = 31$

$45 - 14 = 31$

$56 - 32$

$56 - 30 = 26$

$26 - 2 = 24$

$56 - 32 = 24$

Écris les mêmes nombres dans les zones de même couleur.




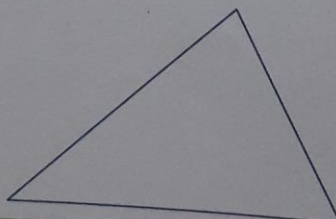
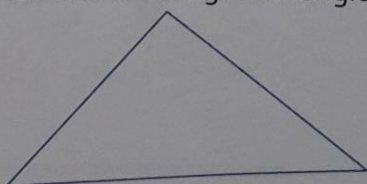
3 **PROBLÈME** Un bus transporte 45 passagers. Au premier arrêt, 25 passagers descendent. Combien de passagers reste-t-il dans le bus ?

$45 - 25 = 20$

Il reste 20 passagers dans le bus.



4 Colorie le triangle rectangle.



MATÉRIEL D