

CORRECTIONS DU VENDREDI 3 AVRIL 2020


CE2

Compréhension

CLEO 24 p13 + 3 p27 + 5 p30

24 date:

On entend un bruit de chaînes et l'on vit une ombre blanche traverser la cour du château. La marquise s'évanouit aussitôt.



- Pourquoi la marquise s'est-elle évanouie? Elle a vu un fantôme et a eu peur.

3 date:

- Quelle ville est-elle située le plus au sud de l'île? Saint Joseph
- Quelle ville est-elle située le plus au nord de l'île? Saint Denis
- Quelle ville est-elle située le plus à l'ouest de l'île? Saint Gilles
- Si je suis à Saint-Leu et que je vais vers le nord, quelle ville vais-je rencontrer en premier? Saint Gilles
- Si je suis à Piton Sainte-Rose et que je vais vers le sud, quelle ville vais-je rencontrer en premier? Saint Philippe

5 date:

Les lions vivent en Afrique. Le mâle adulte, que l'on reconnaît à sa crinière, pèse plus de 200 kg, et la femelle environ 150 kg. C'est la lionne qui va chasser pendant que le lion se repose. Elle donne naissance à des lionceaux aveugles qui pèsent environ 1,5 kg. Durant six à huit semaines, ils ne boivent que le lait de leur mère.

Parfois, la lionne est obligée de laisser les bébés lions seuls pour aller chasser. Ils sont alors en danger, car les hyènes peuvent les attaquer.


Vers l'âge de six mois, les jeunes sont sevrés: cela veut dire qu'ils ne têtent plus leur mère et se nourrissent seulement de viande.

Lexique

CLEO 2 p47

2 date:

- Il y a des enfants prudents et d'autres qui sont imprudents
- Les poules savent pondre des œufs, mais elles ne savent pas répondre aux questions! F. F.
- J'avais commencé à écrire un poème mais j'ai perdu mon cahier, il faut que je recommence
- J'ai gonflé le ballon mais il s'est dégonflé. Il faut que je le regonfle.



87

Fabriquer un cube

x10

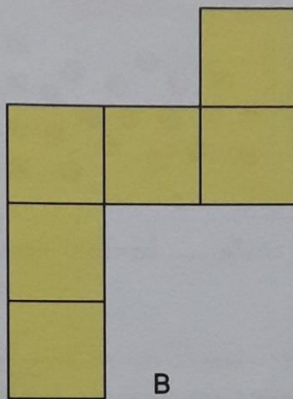
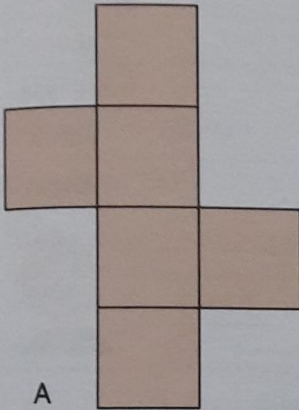
5	8	9	7	3
□	□	□	□	□

Découvrons ensemble



Découpe les figures de la page matériel H.
Plie-les et essaie de construire un cube.

Laquelle de ces figures permet de construire un cube ?A.....



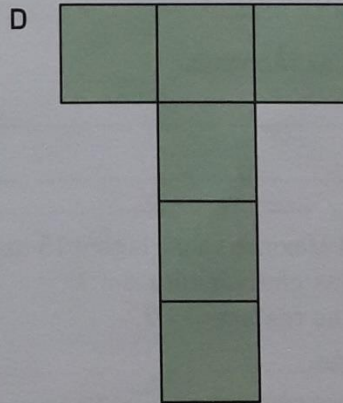
La figure qui permet de construire un cube s'appelle un patron du cube.



Je m'entraîne

1 Découpe les figures C et D de la page matériel H, puis plie-les et essaie de construire un cube.

Laquelle de ces figures est un patron de cube ?D.....



J'ai déjà appris

2 Arrondis ces nombres au millier le plus proche.

2800 → 3000

4200 → 4000

6198 → 6000

3924 → 4000

Le coin du chercheur

Mathix pense à trois nombres qui se suivent. Il les additionne et trouve 60. Quels sont ces trois nombres ?

19 + 20 + 21

Compétence : Fabriquer un cube à partir d'un patron fourni.
Calcul mental : Tables de multiplication par 10. L'enseignant dit : « 6 × 10 » ; l'élève écrit 60.