

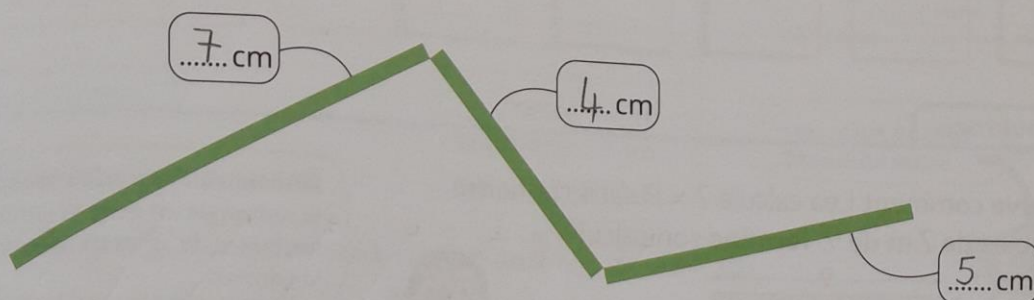
CORRECTIONS DU MARDI 5 MAI 2020

CE1

Mathématiques

Je fais le point (7) – Fichier p 107

6 Quelle est la longueur du chemin **vert** ? **Complète.**



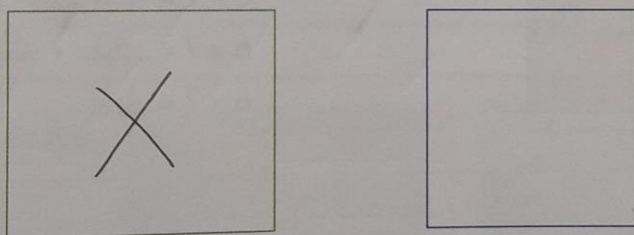
Longueur du chemin **vert** :

$$7 \text{ cm} + 4 \text{ cm} + 5 \text{ cm} = 16 \text{ cm}$$

Mesurer et additionner des longueurs.

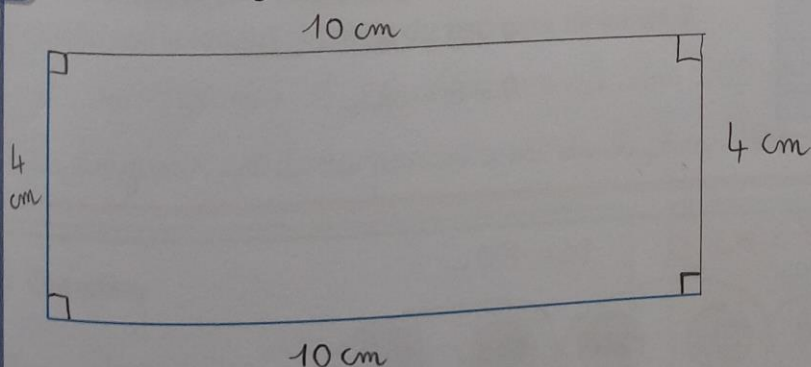
Espace et géométrie

7 **Trace** une croix dans le rectangle.



Identifier un carré ou un rectangle.

8 **Trace** un rectangle. Deux côtés sont déjà tracés.



Tracer un rectangle sur papier uni.

68

Lire l'heure (1)

15-6

11-7

13-5

16-8

15-7

Compétence	Lire les heures entières et les demies heures.
Calcul mental	Différences de nombres. Dire : « 12-4 » : l'élève écrit 8
Prérequis oral	Pourquoi une horloge à aiguilles comporte-t-elle deux aiguilles ?
Réinvestissement	Connaitre la décomposition des nombres.
Différenciation	Remédiation : Photofiche 61 R.

Découvrons



1 **Observe** et **écris** l'heure indiquée par chaque horloge.

Lorsque la petite aiguille se trouve entre 9 et 10 et la grande aiguille sur le 6, il est 9 h 30 ou 9 heures et demie.



9 h 30



7 h 30



10 h



11 h 30

Je m'entraîne

2 **Relie** chaque horloge au réveil qui indique la même heure.



10 : 30



6 : 30



8 : 00



2 : 30

10 : 30, c'est 10 h 30.



3 **Dessine** les aiguilles qui correspondent aux heures d'ouverture et de fermeture de la piscine.

PISCINE MUNICIPALE

Heure d'ouverture : 8 h 30

Heure de fermeture : 11 h 30

Horaires DIMANCHE

heure d'ouverture



heure de fermeture



4 **Colorie** chaque valise de la couleur de son propriétaire.

