

## CORRECTIONS DU LUNDI 4 MAI 2020

CE2


## Etude de la langue

CLEO 6 p83 + 5 p89 + 6 p91 + 2 p94 + 2 p100

6 date : .....

**Petits et grands**

Quand nous étions encore à la maternelle, vous étiez déjà à la grande école. Nous dansons la capucine pendant que vous apprenez à lire.



Nous révisiez vos leçons à l'heure où nous faisons la sieste, nous jouons à la poupée au moment où vous travaillez. Nous étions si petits et vous étiez si grands ! Nous n'avions aucun souci mais c'est fini, car nous avons grandi !

5 date : .....

avoir • Hier soir, j' ai eu du mal à m'endormir.  
 oublier • Lundi soir, tu as oublié ton manteau chez moi.  
 arrêter • Le policier a arrêté le voleur ce matin.  
 jouer • Hier, nous n' avons pas joué à la console.  
 terminer • Vous n' avez pas terminé votre dessert.

6 date : .....

- La voiture freine.
- Les fleurs fanent.
- Sophie attache ses cheveux.
- Le pneu se dégonfle.
- Elle fait un gâteau.
- L'araignée tisse sa toile.

2 date : .....


**Dialogue**

« Comment t'appelles-tu ?  
 - Je m'appelle Désiré.  
 - Quel âge as-tu ?  
 - Je n'ai pas encore d'âge.  
 - À quoi penses-tu ?  
 - Je passe mon temps à rêver.  
 - À quoi ressembles-tu ?  
 - Je ressemble à un poisson.

- Que fais-tu en ce moment ?  
 - Je suce mon pouce.  
 - Est-ce que tu as faim ?  
 - Je n'ai ni faim, ni soif.  
 - Où habites-tu ?  
 - J'habite dans ton ventre.  
 - Tu es mon bébé ?  
 - Oui, et tu es ma maman. »

2 date : .....

- Maëlle et Jégothe sont allées à la gym sans leurs affaires !
- Où allons-nous ? - C'est une surprise !
- Mes cousins vont au ski tous les ans dans les Vosges.
- Elisa et Abdel viennent de terminer leur puzzle.
- Je pourrai me lever quand j'irai mieux.
- Puisqu'il va faire nuit, nous irons nous promener demain.



# Je fais le point (7)

**SOCLE  
COMMUN**

## Nombres et calculs

1 Calcule la moitié de 56.

56 = 50 + 6  
 Moitié de 50 = 25  
 Moitié de 6 = 3  
 donc Moitié de 56 = 25 + 3 = 28

Calculer la moitié d'un nombre.

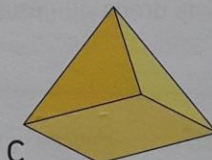
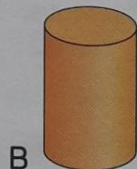
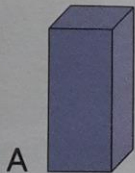
2 Pose et effectue  $36 \times 42$ .

			3	6		
			x	4	2	
			0	7	2	
			+1	4	4	0
			1	5	1	2

Multiplier par un nombre de 2 chiffres.

## Espace et géométrie

3 Écris le nom de chaque solide.



A : pavé droit  
 B : cylindre  
 C : pyramide


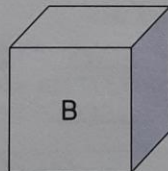
Identifier quelques solides.

4 Quel solide est un cube ? Complète.

Les faces d'un cube sont toutes des carrés.

Un cube ou un pavé droit possède :

- 6 faces
- 8 sommets
- 12 arêtes



Distinguer cube et pavé droit.

## Grandeurs et mesures

5 Complète.

1 kg 300 g = 1 300 g

1 t 500 kg = 1 500 kg

2 350 g = 2 kg 350 g

1 270 kg = 1 t 270 kg

Connaître et convertir les unités de masse.

6 Convertis en minutes : 1 h 20 min = 60 min + 20 min = 80 min

Écris en minute et secondes : 75 s = 1 min 15 s

Connaître et convertir les unités de durée.