

CORRECTIONS DU FEUILLÉ 7 MAI 2020

CE2


Orthographe

CLEO 3 p134 + 3 p136 + 4 p138

3

date :

a une vétérinaire intelligent
le dessert désagréable

b 

- En été, quel délice de dormir à la belle étoile !
- Mon chanteur préféré est passé ce soir à la télé : j'ai adoré.


3

date :

Plusieurs réponses sont possibles.


C'est l'automne, le vent ^{frais} souffle
sur la campagne. Élodie
se promène avec son ^{petit} frère
et sa ^{belle} sœur dans la forêt.
Ils marchent dans les ^{jolies sèches} feuilles.
Ils ramassent plein de ^{bonnes}
^{piquantes} châtaignes. En rentrant,
ils font cuire les ^{délicieuses} châtaignes
dans une ^{grande} poêle.

- beau / belle / beaux / belles
- bon / bonne / bons / bonnes
- délicieux / délicieuse / délicieuses
- engourdi / engourdie / engourdis / engourdis
- frais / fraîche / fraîches
- grand / grande / grands / grandes
- joli / jolie / jolis / jolies
- petit / petite / petits / petites
- piquant / piquante / piquants / piquantes
- sec / sèche / secs / sèches



4

date :



- Un employé municipal répare la porte de l'école.

→ Des employés municipaux réparent la porte de l'école.

- Le général a un bel uniforme.

→ Les généraux ont de beaux uniformes.



Je fais le point (8)

Nombres et calculs

1 Encadre 3 270 entre deux milliers qui se suivent. $3\ 000 < 3\ 270 < 4\ 000$

Arrondis 3 270 au millier le plus proche. $3\ 000$ (car $3\ 270 < 3\ 500$)

Arrondir au millier le plus proche.

2 Encadre 4 875 entre deux centaines qui se suivent. $4\ 800 < 4\ 875 < 4\ 900$

Arrondis 4 875 à la centaine la plus proche. $4\ 900$ (car $4\ 875 > 4\ 850$)

Arrondir à la centaine la plus proche.

3 Les 24 élèves de la classe de CE2 participent à un tournoi de rugby.

On forme des équipes de 6 joueurs.

Combien d'équipes peut-on former ?

Complète. $24 = 4 \times 6$

On forme 4 équipes.



Résoudre une situation de division.

Espace et géométrie

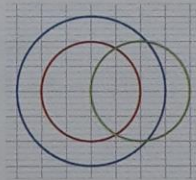
4 Quelles sont les couleurs de cercles :

- de même centre ?

rouge et bleu

- de même rayon ?

rouge et vert



Connaître et utiliser le vocabulaire : centre d'un cercle, rayon.

Grandeurs et mesures

5 Convertis.

2 L = 200 cL

3 L = 30 dL

1 L 50 cL = 150 cL

20 dL = 2 L

150 cL = 1 L 50 cL

175 cL = 1 L 75 cL

Connaître les unités de contenance et les relations qui les lient.

6 Calcule : - en mètres : $1\ km\ 500\ m + 700\ m = 1\ 500\ m + 700\ m = 2\ 200\ m$

- en grammes : $3\ kg\ 200\ g + 1\ kg\ 900\ g = 3\ 200\ g + 1\ 900\ g = 5\ 100\ g$

- en centilitres : $3\ L\ 50\ cL + 5\ dL = 3\ 50\ cL + 50\ cL = 4\ 00\ cL$

Ajouter des mesures.